

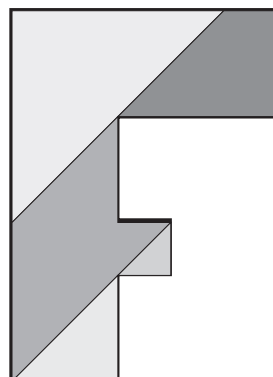
## Demi douzaine

Le nombre de départ est : **1 4 2 8 5 7**

## Fête foraine

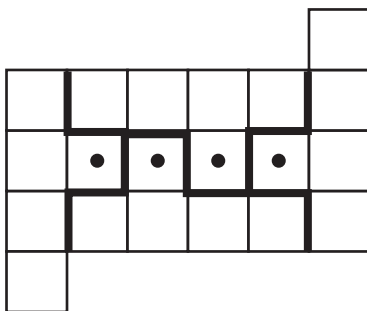
Le numéro d'immatriculation de la voiture est : **12HX58**

## La lettre F



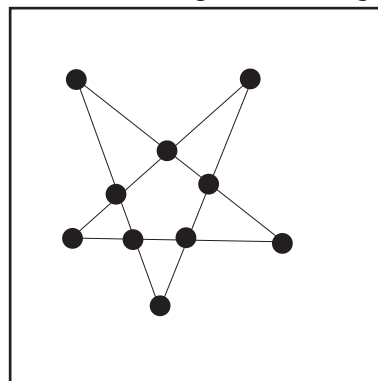
## Les poiriers du père Manganate

Dessiner le découpage au feutre épais:



## Les piquets du jardinier

Dessiner la disposition des piquets



## Problème d'horloge

Je vais pouvoir lire **4** heures au lit

## Le resquilleur

Le resquilleur est : **Pierre**

## Cubes

L'enfant a **74** cubes

## Opération codée

$$\mathbf{1\ 9\ 6\ 8\ 3} = \mathbf{2\ 7}^3$$

## A bicyclette

La bicyclette a parcouru **923,63** mètres

## Camion de sable

Masse du camion vide : **1950 kg**

## Agés


Gaston est né en : **1953**

Julien est né en : **2003**

Norbert est né en : **1941**

Jules est né en : **1891**

## Echec et cercle



# Solutions

# Niveau 2

## Menuisier

L'aire totale est **7000** cm<sup>2</sup>


## Paul et Virginie

Médor a parcouru **2,25** km

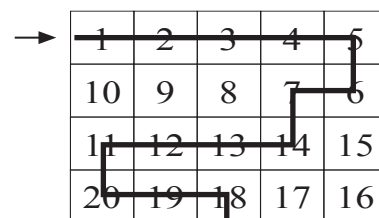
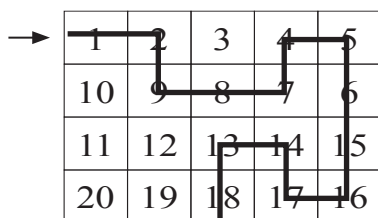
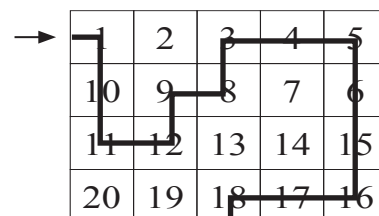
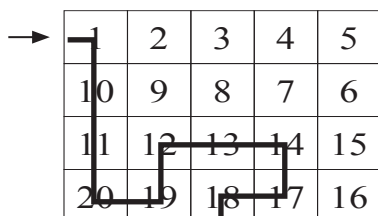
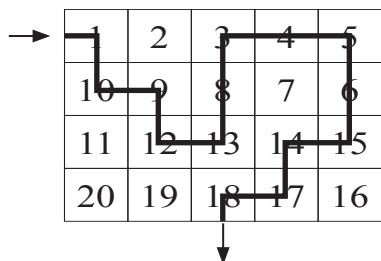
## Une flèche dans un carré

Réponse : **100 m<sup>2</sup>**

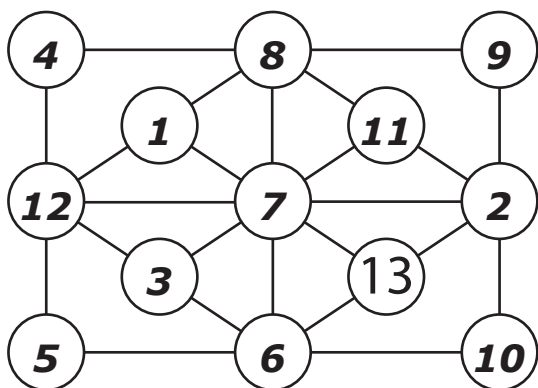
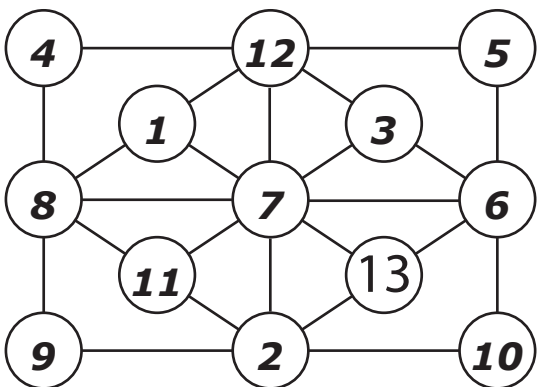
## Double puzzle



## Labyrinthe



## Somme constante



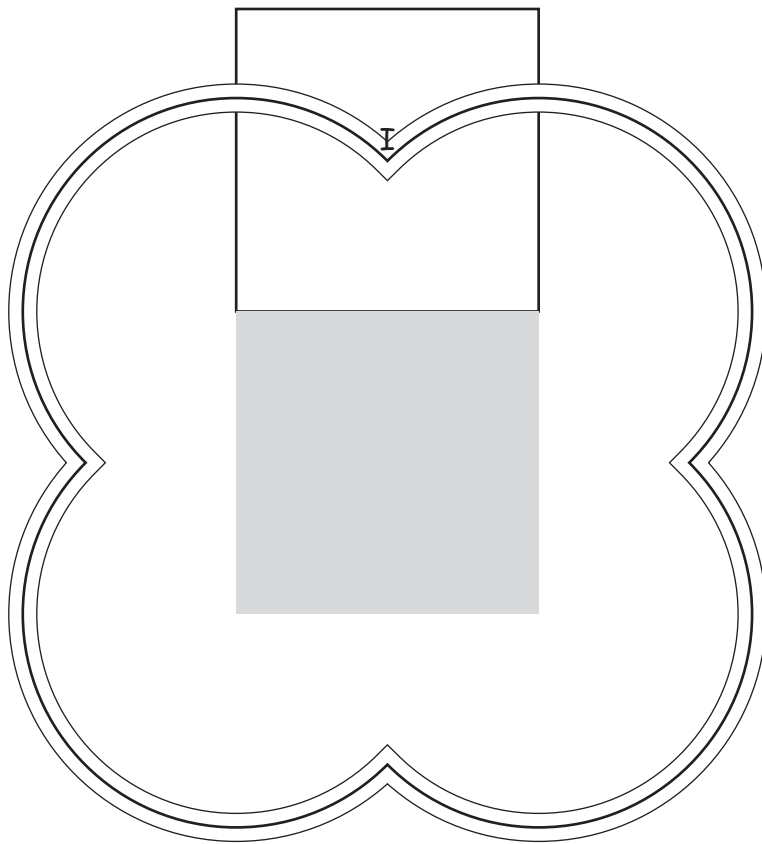
## Sudoku

3	6	9	5	4	1	7	8	2
8	1	5	2	7	9	6	4	3
2	4	7	8	6	3	1	5	9
9	2	3	7	1	5	4	6	8
5	7	6	4	9	8	3	2	1
4	8	1	3	2	6	9	7	5
1	9	2	6	8	4	5	3	7
7	3	4	9	5	2	8	1	6
6	5	8	1	3	7	2	9	4

## *Un carré qui tourne...*

La longueur de la trajectoire est (donner le résultat arrondi avec deux chiffres après la virgule et sans oublier l'unité) :

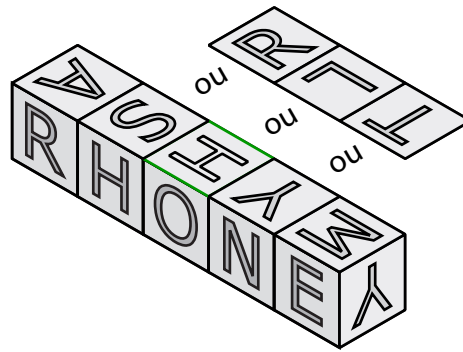
**35,54 cm**



Jeu de cubes

M M O


L Y O N



Pas de «un»

Le poème contient **735** vers

Le dé qui roule



Plick et Plock

1 ; 6 ; 0 ; 9

a = **3** b = **3**

7 ; 12 ; 0,75 ; -1

a = **3** b = **4**

20 ; 12 ; 5 ; 8

a = **10** b = **2**

4 ; 1 ; 1,5 ; 2,5

a = **2** b = **0.5**

Quel cirque !

L'autre spécialité du dompteur : **acrobate**

L'autre spécialité d'Hypatie : **clown**

Les prénoms des trois acrobates : **Marie** **Sophie** **Sam**

Entourer le(s) numéro(s) dans l'ordre du spectacle que font ensemble les trois acrobates :

1 2 3 **4** **5**

Le prénom du dompteur : **Sam**

Le deuxième numéro du spectacle : **Fauves**

Les prénoms de ceux qui participent au deuxième numéro :

**Sam, Douglas, Tom Sophie**

## *Perdu dans le désert*

Indiquer d'une croix tous les endroits où il faudrait creuser...

